

Van welvaart naar kortingspas

Bij de beantwoording van de vragen in deze opgave moet je soms gebruikmaken van informatiebronnen 2, 3 en 4 in de bijlage.

In vergelijking met andere landen is Nederland een rijk land. Maar niet iedereen in Nederland is even welvarend.

- 1p 13 Wat wordt verstaan onder welvaart?
- A de mate waarin men in de behoeften kan voorzien
 - B een hoog bruto-inkomen
 - C een hoog netto-inkomen
 - D het inkomen per hoofd van de bevolking

Fatima is alleenstaand en verdient een netto-inkomen van ongeveer € 100.000 per jaar. Haar buurman Peter is ook alleenstaand, hij ontvangt een bijstandsuitkering van netto € 12.000 per jaar en heeft nog een schuld.

Beiden besteden hun inkomen volledig. In de grafiek is weergegeven hoeveel procent van hun inkomen beiden uitgeven aan dagelijkse uitgaven, aan vaste lasten en aan incidentele uitgaven.

Gebruik informatiebron 2.

- 1p 14 Van wie zijn de gegevens in kolom A en waarom?
- A Fatima, want iemand met een hoog inkomen besteedt in verhouding meer aan dagelijkse uitgaven.
 - B Fatima, want iemand met een hoog inkomen besteedt in verhouding meer aan incidentele uitgaven.
 - C Peter, want iemand met een laag inkomen besteedt in verhouding meer aan dagelijkse uitgaven.
 - D Peter, want iemand met een laag inkomen besteedt in verhouding meer aan incidentele uitgaven.

De koopkracht van Peter is minder groot dan die van Fatima. In 2010 daalde de koopkracht van de Nederlandse bevolking gemiddeld met 0,5 procent.

Gebruik informatiebron 3.

- 1p 15 Gaat Peter er in koopkracht in 2010 ten opzichte van 2009 op vooruit of op achteruit en met hoeveel procent?

Gebruik informatiebron 4.

- 1p 16 Peter heeft in 2010 een netto-inkomen van € 1.000 per maand.
→ Hoeveel huishoudens zijn er in 2010 met hetzelfde netto-inkomen als Peter?

Peter ontvangt nu al twee jaar een bijstandsuitkering. Hij heeft moeite zijn schuld af te betalen. Hij betaalt in 2010 nog steeds voor de lening die hij in 2007 heeft afgesloten voor de aankoop van een auto.

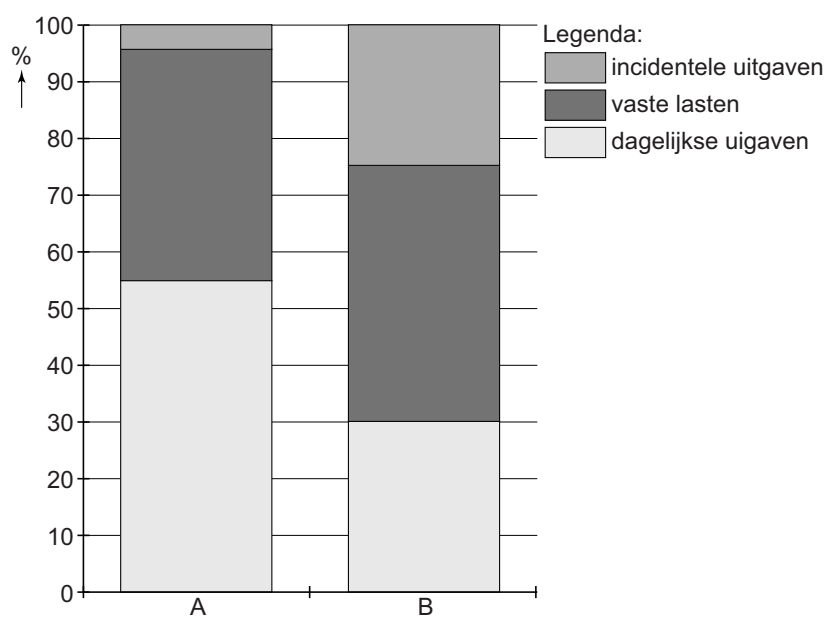
- 1p 17 Wat zijn de effecten van deze lening voor zijn bestedingsmogelijkheden?
→ Maak de zinnen kloppend door de juiste woorden te kiezen.
Doe het zo: Noteer de nummers (1) en (2) op je antwoordblad. Vul bij de nummers de juiste woorden in. Kies uit de woorden die tussen haakjes staan.

Door de lening kon hij in 2007 ...(1)... (meer / evenveel / minder) besteden.

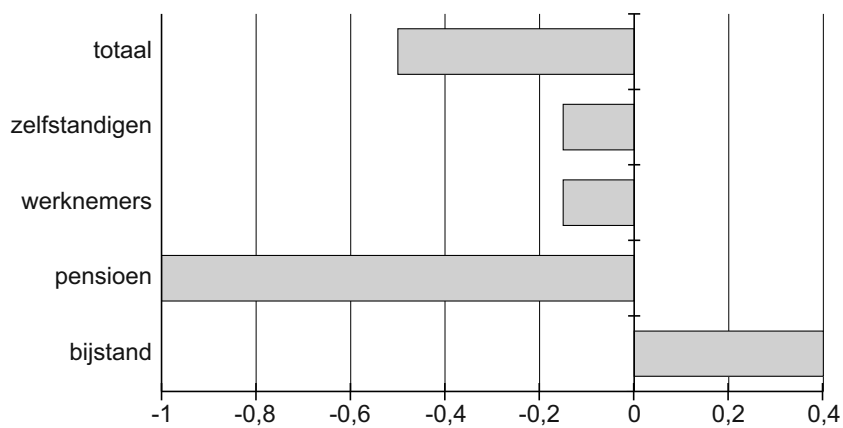
Als gevolg van zijn lening kon hij in 2010 ...(2)... (meer / minder) besteden.

Van welvaart naar kortingspas

informatiebron 2 inkomensbesteding in procenten van Fatima en Peter

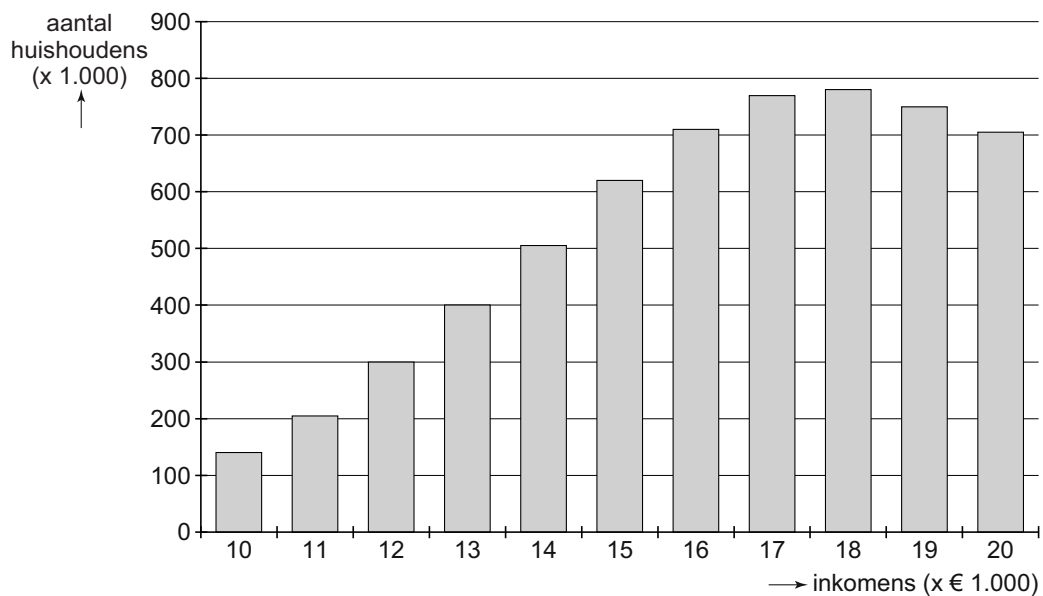


informatiebron 3 koopkrachtontwikkeling 2010, veranderingen in procenten ten opzichte van 2009



bron: CBS, Welvaart in Nederland

informatiebron 4 aantal huishoudens naar hoogte van het netto-jaarinkomen in 2010



bron: CBS, Welvaart in Nederland

Bronvermelding

Een opsomming van de in dit examen gebruikte bronnen, zoals teksten en afbeeldingen, is te vinden in het bij dit examen behorende correctievoorschrift, dat na afloop van het examen wordt gepubliceerd.